

**K**  
KİTAPÇIK TÜRÜT.C.  
MİLLÎ EĞİTİM BAKANLIĞI  
ÖLÇME, DEĞERLENDİRME VE  
SINAV HİZMETLERİ GENEL MÜDÜRLÜĞÜ**1.**  
GRUP**MOTORLU TAŞIT SÜRÜCÜ KURSIYERLERİ SINAVI**  
**17/12/2016 Saat: 11.00**

Adı ve Soyadı : .....

T.C. Kimlik No : .....

**ADAYLARIN DİKKATİNE!**

1. Bu sınavda cevaplayacağınız soru sayısı **50**, sınav süreniz **60** dakikadır.
2. Sınav süresince dışarı çıkılmayacaktır.
3. Sınav sırasında çanta, cep telefonu, saat, kablosuz iletişim sağlayan cihazlar ve kulaklık, kolye, küpe, bilezik, yüzük, broş ve benzeri eşyalar ile her türlü elektronik ve/veya mekanik cihazları yanınızda bulundurmuyunuz. Bu araçları yanınızda bulundurmanız ve kopya çekmeye teşebbüs etmeniz hâlinde sınavınız geçersiz sayılacaktır.
4. Başvuru şartlarını taşımadığınız hâlde sınava girmeniz, kopya çekmeniz, cevap kâğıdınızdaki fotoğraf ve bilgiler ile geçerli kimlik belgenizdeki (fotoğraflı nüfus cüzdanı, pasaport veya sürücü belgenizdeki) bilgilerde uyumsuzluk olması, başka adayın sınav evrakını kullanmanız, geçerli kimlik belgenizi ve sınav giriş belgenizi ibraz edemediğiniz durumlarda sınavınız geçersiz sayılacaktır.
5. Elektronik iletişim araçlarıyla kopya çekmeniz, yerinize başka birinin sınava girdiğinin belirlenmesi veya organize olarak kopya çekme eylemine karıştığınızın tespit edilmesi durumunda bir yıl süreyle sınava alınmayacaksınız.
6. Sınavın değerlendirilmesi aşamasında, bilgisayar ortamında yapılan kopya analizinde sistemin ikili ve/veya toplu kopya tespiti hâlinde sınavınız geçersiz sayılacaktır.

**CEVAP KÂĞIDI VE SORU KİTAPÇIĞI İLE İLGİLİ AÇIKLAMALAR**

1. Cevap kâğıdınızdaki bilgilerin doğruluğunu kontrol ediniz. İlgili yere ad ve soyadınızı mürekkepli kalemle yazarak imzalayınız.
2. **Adınıza düzenlenmiş cevap kâğıdı üzerinde belirtilen kitapçık türünüze uygun soru kitapçığını almamış iseniz, bunu salon görevlilerine bildirerek uygun kitapçıkla değiştirilmesini sağlamakla yükümlüsünüz. Bu durumu salon görevlilerine bildirmediğiniz ya da geç bildirdiğinizde tüm sorumluluk size ait olacaktır.**
3. Cevap kâğıdı üzerinde kodlamalarınızı siyah kurşun kalemle yapınız.
4. Değiştirmek istediğiniz bir cevabı, yumuşak silgiyle cevap kâğıdını örselemeden temizce siliniz ve yeni cevabınızı kodlayınız.
5. Soru kitapçığının sayfalarını görevlilerin uyarıları doğrultusunda kontrol ediniz, baskı hatası var ise değiştirilmesini sağlayınız.
6. Soru kitapçığının ön yüzündeki ilgili yerlere ad, soyad ve T.C. kimlik numaranızı yazınız.
7. Her sorunun dört seçeneğinden sadece biri doğrudur. Doğru seçeneği, cevap kâğıdınızın ilgili sütununa soru numarasını dikkate alarak yuvarlağın dışına taşırmadan kodlayınız. **Soru kitapçığı üzerinde yapılan cevaplandırmalar dikkate alınmayacaktır.**
8. Yanlış cevaplarınız dikkate alınmadan sadece doğru cevaplarınız üzerinden puanlama yapılacaktır.
9. Başarılı sayılabilmemiz için en az **70** puan almanız gerekir.
10. Soruları ve sorulara verdiğiniz cevapları, yanınızda götürmek amacıyla kaydetmeyiniz; hiçbir şekilde dışarı çıkarmayınız.
11. **Sınav bitiminde, sınav giriş belgesi, soru kitapçığı ve cevap kâğıdını salon görevlilerine teslim ediniz.**

Arka kapaktaki açıklamalara geçiniz.

1. I. Yaşamı korumak  
II. İyileşmeyi kolaylaştırmak  
III. Durumun kötüye gitmesini önlemek
- Yukarıda verilenlerden hangileri ilk yardım amaçlarındandır?**

A) Yalnız I  
B) I ve II  
C) II ve III  
D) I, II ve III

2. "Vücut dokularının oksijen, besin, hormon, bağışıklık ve benzeri elemanlarını taşıyarak yeniden geriye toplayan sistemdir."
- Yukarıdaki açıklama, vücudu oluşturan sistemlerden hangisine aittir?**

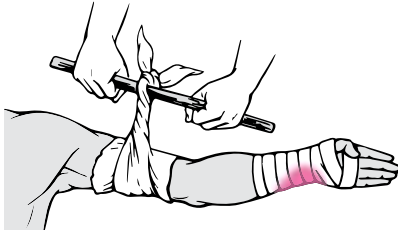
A) Hareket sistemi  
B) Sindirim sistemi  
C) Dolaşım sistemi  
D) Boşaltım sistemi

3. • Yaralanmanın ciddiyetinin değerlendirilmesi  
• İlk yardım önceliklerinin belirlenmesi  
• Yapılacak ilk yardım yönteminin belirlenmesi  
• Güvenli bir müdahale sağlanması

**Verilenler aşağıdakilerden hangisinin amacını oluşturur?**

A) Yaralıyı değerlendirmenin  
B) Trafik kazalarını azaltmanın  
C) Sağlık personeli niteliği kazanmanın  
D) İnsanları zararlı alışkanlıklarından uzaklaştırmanın

4.



**Resimde görülen ilk yardım uygulaması, aşağıdaki durumların hangisinde tercih edilmez?**

A) Uzun kopması varsa  
B) Baskı noktalarına baskı uygulamak yeterliyse  
C) Çok sayıda kazazedinin bulunduğu bir ortamda tek ilk yardımcı varsa  
D) Kanaması durdurulamayan kazazede güç koşullarda bir yere taşınacaksa

5. I. Bir el kazazedinin alınına, diğer elin 2 parmağı çene kemiğinin üzerine konulur.  
II. Alından bastırılıp çeneden kaldırılarak baş geriye doğru itilir.  
III. İşlemler sırasında sert hareketler tercih edilir.

**Yukarıdakilerden hangileri, Baş geri-Çene yukarı pozisyonunun uygulama basamaklarındandır?**

A) I ve II  
B) I ve III  
C) II ve III  
D) I, II ve III

6. **Aşağıdakilerden hangisi, bebeklere yapılan suni solunum uygulamasında dikkat edilecek kurallardandır?**

A) Bebeğin yumuşak bir zemin üzerine, sırt üstü yatırılması  
B) Hava yolu tıkanıklığına neden olan yabancı cisim varsa bebeğin yutmasının sağlanması  
C) Bebeğin solunum yapıp yapmadığının bak-dinle-hisset yöntemiyle 1 dakika süre ile kontrol edilmesi  
D) Solunum yoksa ağzın, bebeğin ağız ve burnunu içine alacak şekilde yerleştirilip ağız dolusu nefes verilmesi

7. **Aşağıdakilerden hangisi toplardamar kanamasının özelliğidir?**

A) Açık parlak kırmızı renkte olması  
B) Koyu kırmızı renkli ve yayılarak akması  
C) Kalp atımları ile uyumlu ve fişkirir tarzda olması  
D) Arter kanamalarına göre durdurulmasının daha zor olması

8. **Taş, yumruk ya da sopa gibi etkenlerin şiddetli olarak çarpması ile oluşan yaralara ne ad verilir?**

A) Kesik yaralar  
B) Delici yaralar  
C) Ezikli yaralar  
D) Parçalı yaralar

9. **Bayılan bir kazazedinin kusması varsa hangi pozisyonda tutulmalıdır?**

A) Baş geride yarı oturuş  
B) Sırtüstü yatış  
C) Dik oturuş  
D) Yan yatış

10. Aşağıdakilerden hangisi, şok durumunda kazazedeye yapılması gereken ilk yardım uygulamalarındandır?

- A) Yarı oturur pozisyon verilmesi
- B) Fiziksel hareketinin artırılması
- C) Hava yolu açıklığının sağlanması
- D) Soğuk suyla ıslatılmış çarşafla üzerinin örtülmesi

11. Trafik kazalarında ölümlerin % 80'i kafatası ve omurga yaralanmalarından olmaktadır. Bu yaralanmalarda bilinçli ilk yardım, sakatlıkları önler ve hayatı kurtarır.

Buna göre, aşağıdakilerden hangisi kafatası ve omurga yaralanmalarında yapılması gereken ilk yardım uygulamalarındandır?

- A) Kazazedenin yalnız bırakılması
- B) Baş-boyun-gövde ekseninin korunması
- C) Bilinci açıksa hareket etmesinin sağlanması
- D) Hava yolu açıklığını sağlamak için koma pozisyonu verilmesi

12. Dıştan veya içten etki eden kuvvetlerle kemik dokusunda oluşan ayrılmaya veya bu sebeplerle kemiğin anatomik bütünlüğünün ve devamlılığının bozulmasına - - - - denir.

Bu ifadeye boş bırakılan yere aşağıdakilerden hangisi yazılmalıdır?

- A) kırık
- B) çıkık
- C) donma
- D) burkulma

13. Kaza geçirmiş yaralıda, solunum ve dolaşım durması varsa ya da olay yerinde yangın ve patlama gibi tehlikeli bir durum söz konusuysa omuriliğine zarar vermeden araçtan çıkarılmasında kullanılan tekniğe ne ad verilir?

- A) İtfaiyeci yöntemi
- B) Rentek manevrası
- C) Heimlich manevrası
- D) Ayak bileklerinden sürükleme yöntemi

14. Aşağıdakilerden hangisi trafiğin düzenlenmesinde diğerlerine göre önceliğe sahiptir?

- A) Trafik görevlisi
- B) Trafik ışıkları
- C) Yer işaretlemeleri
- D) Trafik levhaları


15. Aşağıdakilerden hangisi Kara Yolları Genel Müdürlüğünün görev ve yetkilerindedir?

- A) Çocuk trafik eğitim parklarını yapmak
- B) Duran ve akan trafiği düzenlemek ve yönetmek
- C) Tüm kara yollarındaki işaretleme standartlarını tespit etmek, yayınlamak ve kontrol etmek
- D) Sürücü adaylarının teorik ve uygulamalı sınavlarını yapmak ve başarılı olanlara sertifika verilmesini sağlamak

16. Araçların bir mülke girip çıkması için yapılmış olan yolun, kara yoluna bağlanan ve kara yolu sınır çizgisi içinde kalan kısmına ne ad verilir?

- A) Şerit
- B) Geçiş yolu
- C) Banket
- D) Bağlantı yolu

17. Şekildeki trafik görevlisinin işaretine göre 2 numaralı aracın sürücüsü ne yapmalıdır?



- A) Beklemeli
- B) Sola dönmeli
- C) Doğru gitmeli
- D) Geriye dönmeli

18. Aşağıdakilerden hangisi kasisli yol işaretidir?

- A)
- B)
- C)
- D)





19. • Gözlerini açık tutmakta zorlanıyorsa  
• Dalıyor ya da dikkatini toplayamıyorsa

**Araç kullanırken yukarıda verilen belirtilerin sürücüde sezilmesi halinde aşağıdakilerden hangisi yapılmalıdır?**

- A) Baş dik tutulmaya çalışılmalı  
B) Gözler ovuşturulmalı  
C) Yola devam edilmeli  
D) Mola verilmeli

20. "Trafik kazalarında insan, araç, yol ve iklim koşulları etkili olmaktadır."





**Buna göre, aşağıdaki trafik işaretlerinden hangisi iklim koşullarından kaynaklanan bir tehlike olabileceğini bildirir?**

- A)  B)   
C)  D) 


21. Aralıklı olarak yanıp sönen kırmızı ışıkta sürücü ne yapmalıdır?

- A) Yavaşlayıp yolu kontrol ederek geçmeli  
B) Durmalı, trafik uygunsa devam etmeli  
C) Yeşil ışık yanıncaya kadar durmalı  
D) Durmadan dikkatli geçmeli

22. Aşağıdaki trafik tanzim işaretlerinden hangisi, bütün yasaklama ve kısıtlamaların sona erdiğini bildirir?

- A)  B)   
C)  D) 

23. Şekildeki taşıt yolu üzerine çizilen yatay işaretlemeye göre araç sürücüsü nasıl davranmalıdır?

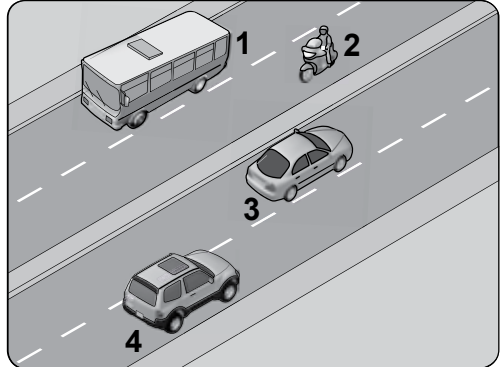


- A) 50 metre sonra durmalı  
B) Asgari (en az) 50 km/saat hızla gitmeli  
C) Azami (en fazla) 50 km/saat hızla gitmeli  
D) Öndeki araçla arasında 50 metre mesafe bırakmalı

24. Ticari amaçla yük taşımacılığı yapan ve azami ağırlığı 3,5 tonu geçen araçların şoförleri ile ticari amaçla yolcu taşımacılığı yapan ve taşıma kapasitesi şoförü dahil 9 kişiyi geçen araçların şoförlerinin, 24 saatlik herhangi bir süre içinde toplam olarak kaç saatten fazla araç sürmeleri yasaktır?

- A) 6 B) 7 C) 8 D) 9

25. Aksine bir işaret yoksa yerleşim yeri dışındaki bölünmüş kara yolunda, şekildedeki 1 numaralı aracın azami (en yüksek) hızı saatte kaç kilometredir?



- A) 50 B) 70 C) 90 D) 110

26. Şekildeki trafik işaretinin anlamı nedir?

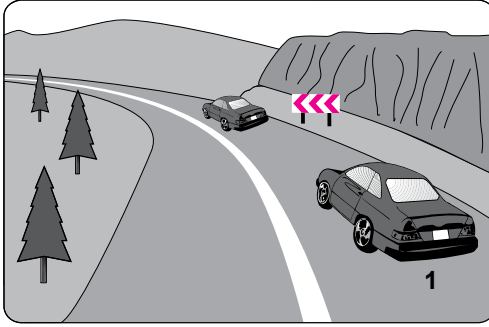


- A) Motosiklet hariç motorlu taşıt trafiğine kapalı yol  
B) Taşıt trafiğine kapalı yol  
C) Motosiklet giremez  
D) Taşıt giremez

27. 110 km/saat hızla seyreden bir aracın, önündeki aracı takip mesafesi en az kaç metre olmalıdır?

- A) 50 B) 55 C) 60 D) 65

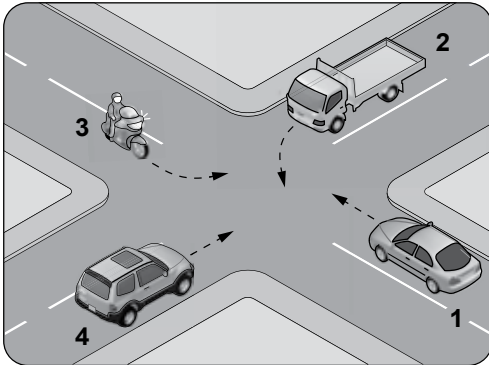
28.



Şekle göre, 1 numaralı aracın sürücüsü aşağıdakilerden hangisini yapmalıdır?

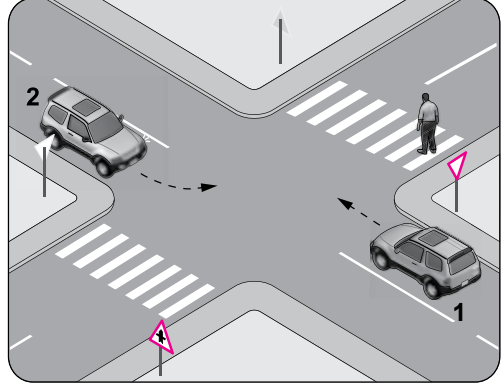
- A) Öndeki aracın geç işaretine uymalı  
B) Hızını artırarak öndeki aracı geçmeli  
C) Takip mesafesine uyararak bulunduğu şeridi izlemeli  
D) Öndeki araca takip mesafesinden daha fazla yaklaşmalı

29. Şekildeki kontrolsüz kavşakta ilk geçiş hakkını hangi numaralı araç kullanmalıdır?



- A) 1 B) 2 C) 3 D) 4

30. Şekildeki kavşakta sola dönüş yapacak olan 2 numaralı araç sürücüsü nasıl davranmalıdır?

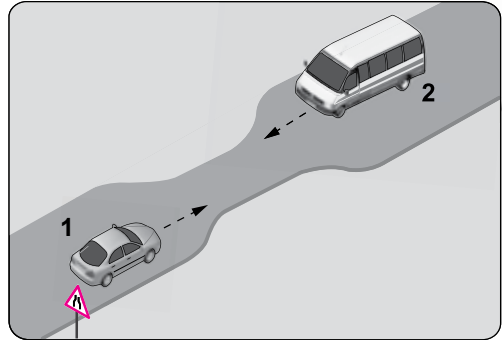


- A) Dar bir kavisle dönmeli  
B) Hızını azaltmadan kavşağa girmeli  
C) İlk geçiş hakkını kendisi kullanmalı  
D) Karşıya geçen yayaya yol vermeli

31. Yaralı veya acil hasta taşıyan özel araç sürücüleri, geçiş üstünlüğü hakkını nasıl kullanabilirler?

- A) Eskort eşliğinde  
B) Seyyar tepe lambası taktırarak  
C) Sesli ve ışıklı işaretler vererek  
D) Araçlarında bir gözcü bulundurarak

32. Şekildeki gibi eğimsiz iki yönlü dar yoldaki karşılaşmada 2 numaralı aracın sürücüsü ne yapmalıdır?



- A) U dönüşü yapmalı  
B) 1 numaralı araca yol vermeli  
C) İlk geçiş hakkını kendisi kullanmalı  
D) 1 numaralı aracın sürücüsünü ikaz edip durdurmalı

33. Aşağıdaki yakıtlardan hangisini kullanan araçların kapalı otoparka kabul edilmesi yasaktır?

- A) LPG B) Benzin  
C) Motorin D) Biyodizel

34. I. Dönüş ışıklarının "geç" anlamında kullanılması  
II. Geceleri öndeki aracı yakından takip ederken kısa hüzmeli farların yakılması  
III. Sis ışıklarının, sis ve kar sebebiyle görüşün yetersiz olduğu haller dışında kullanılması

Araç ışıkları ile ilgili olarak yukarıda verilenlerden hangileri yanlıştır?

- A) I ve II B) I ve III  
C) II ve III D) I, II ve III

35. Seyir esnasında araçlarda emniyet kemeri kullanılması, aşağıdakilerden hangisinin azalmasında etkili olur?

- A) Trafik kazalarının  
B) Trafik işaret levhalarının  
C) Trafikteki görevli sayısının  
D) Kaza anında ölüm ve yaralanmaların

36. I. Arkadan çarpma  
II. Kavşaklarda geçiş hakkı kuralına uyma  
III. Geçme yasağı olan yerlerde öndeki aracı geçme

Yukarıda verilenlerin hangileri, araç sürücülerinin trafik kazalarında asli (esas) kusurlarından sayılır?

- A) I ve II B) I ve III  
C) II ve III D) I, II ve III

37. I. Reflektör  
II. İlk yardım çantası  
III. Yangın söndürme cihazı

Otomobillerde yukarıda verilenlerden hangilerinin bulundurulması zorunludur?

- A) Yalnız I B) I ve II  
C) II ve III D) I, II ve III

38. Aşağıdakilerden hangisinin trafikteki araçlarda bulunması zorunludur?

- A) Kasko poliçesi  
B) Yağ değişim kartı  
C) Araç tescil belgesi  
D) Periyodik bakım kartı

39. Çevre kirliliğini önlemek amacıyla yapılan çalışmalara ne denir?

- A) Çevre B) Çevre hakkı  
C) Çevre düzeni D) Çevre koruma

40. Harita üzerindeki uzunlukların gerçek uzunluklara olan oranına ne denir?

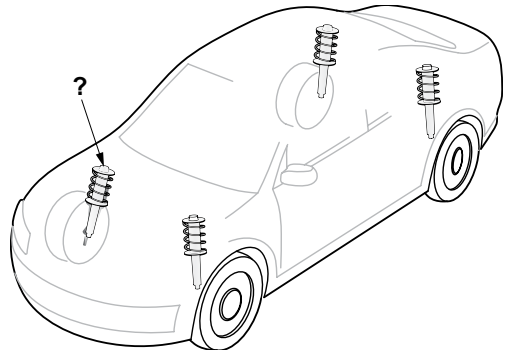
- A) Birim B) Kroki  
C) Ölçek D) Koordinat

41. Motoru çalıştırırken uzun süreli marş yapılması aküye ve marş motoruna zarar verir.

Buna göre, marş durumunda marş motoru dönmüyorsa sorun aşağıdakilerin hangisinden kaynaklanmış olabilir?

- A) Akünün boşalmasından  
B) Akünün tam şarjlı olmasından  
C) Hava filtresinin kirlenmesinden  
D) Akü kutup başlarının sıkı olmasından

42.



Süspansiyon sisteminde bulunan ve yay salınım süresini kısaltan, şekilde soru işareti (?) ile gösterilmiş parça aşağıdakilerden hangisidir?

- A) Şaft B) Volan  
C) Kavrama D) Amortisör

43. Araçlarda hangisinin bulunması, olası bir kaza anında ölüm ve yaralanma riskini azaltır?

- A) Alarm  
B) Merkezi kilit  
C) Hava yastığı  
D) Hız sabitleyici

44. Aracın gösterge panelinde bulunan şekildeki ikaz ışığının, **mavi renkte yanması sürücüyü neyi bildirir?**



- A) Kısa farların yandığını  
B) Uzun farların yandığını  
C) Cam rezistansının çalıştığını  
D) El freninin çekilmiş olduğunu

45. Aşağıdakilerden hangisinin, **normalin çok altında eksilmesi veya özelliğini kaybetmesi durumunda motor aşırı ısınarak zarar görür?**

- A) Antifriz  
B) Motor yağı  
C) Fren hidroliği  
D) Akü elektroliti

46. Aşağıdakilerden hangisi, motorun soğutma sisteminde donmayı önlemenin yanı sıra soğutma sıvısının geçtiği yerlerde korozyonu, paslanmayı ve kireç oluşumunu da engelleyerek parçaların ömrünü artırır?

- A) Yağ  
B) Asit  
C) Saf su  
D) Antifriz


47. Araçta, kullanım ömrünü tamamlamış lastiklerin kullanılması aşağıdakilerden hangisini artırır?

- A) Sürüş konforunu  
B) Trafik kazası riskini  
C) Direksiyon hâkimiyetini  
D) Aracın yol üzerinde tutunmasını

48. Aşağıdakilerden hangisi motorda yapılan ve yakıt tasarrufuna etki eden ayarlardan biri **değildir?**

- A) Far ayarı  
B) Buji ayarı  
C) Avans ayarı  
D) Rölanti ayarı

49. Aracın kontak anahtarı motoru çalıştırmayacak şekilde açıldığında, gösterge panelinde bulunan şekildeki akü şarj ikaz ışığının yanması gerekir.



**Yanmıyorsa, arıza aşağıdakilerden hangisinde olabilir?**

- A) Marş motorunda  
B) Soğutma fanında  
C) Motor devir göstergesinde  
D) Akü şarj ikaz ışığının ampülünde

50. Fren pedalına basıldığında fren lambaları **yanmıyorsa sebebi aşağıdakilerden hangisidir?**

- A) Flaşör arızalıdır.  
B) Distribütör arızalıdır.  
C) Fren müşiri arızalıdır.  
D) Geri vites müşiri arızalıdır.

**TEST BİTTİ.  
CEVAPLARINIZI KONTROL EDİNİZ.**



## SINAV SÜRESİNCE UYULACAK KURALLAR

1. Adaylar, sınav kurallarına ve salon görevlilerinin tüm uyarılarına uymak zorundadırlar. Kurallara ve uyarılara uymayan adayların sınavları geçersiz sayılacaktır.
2. Sınav başladıktan sonra adayların salon görevlileri ve birbirleri ile konuşmaları, kalem, silgi vb. şeyleri istemeleri yasaktır.
3. Adaylar sınav süresince, sınav giriş belgesi ile birlikte geçerli kimlik belgelerinden birini (fotoğraflı nüfus cüzdanı, pasaport veya sürücü belgesi) masalarının üzerinde bulundurmamak zorundadırlar.
4. Sınav evraklarını teslim etmeyen, soru kitapçıklarının sayfalarından bir kısmını eksik teslim edenlerin sınavları geçersiz sayılacaktır.

## SALON GÖREVLİLERİNCE SINAV BAŞLAMADAN ÖNCE ADAYLARA YAPILACAK SON UYARILAR

- Soracağınız bir şey varsa şimdi sorunuz, sınav başladıktan sonra sorularınıza cevap verilmeyecektir.
- Başlama zilini bekleyiniz.

*Hepinize başarılar dileriz.*

**(Salon başkanı başlama ve bitiş saatini tahtaya yazacaktır.)**

**BAŞLAYINIZ DENMEDEN SORU KİTAPÇIĞINI AÇMAYINIZ.**

Bu kitapçığın her hakkı saklıdır. Hangi amaçla olursa olsun, kitapçığın tamamının veya bir kısmının Millî Eğitim Bakanlığı Ölçme, Değerlendirme ve Sınav Hizmetleri Genel Müdürlüğü'nün yazılı izni olmadan kopya edilmesi, fotoğraflarının çekilmesi, bilgisayar ortamına alınması, herhangi bir yolla çoğaltılması, yayımlanması veya başka bir amaçla kullanılması yasaktır. Bu yasağa uymayanlar, doğabilecek cezai sorumluluğu ve kitapçığın hazırlanmasındaki mali külfeti peşinen kabullenmiş sayılır.



**17.12.2016 TARİHİNDE YAPILAN  
MOTORLU TAŞIT SÜRÜCÜ KURSİYERLERİ SINAVI  
K KİTAPÇIĞI CEVAP ANAHTARIDIR**

**MOTORLU TAŞIT SÜRÜCÜ  
KURSİYERLERİ SINAVI**

---

1. D
2. C
3. A
4. B
5. A
6. D
7. B
8. C
9. D
10. C
11. B
12. A
13. B
14. A
15. C
16. B
17. A
18. A
19. D
20. C
21. B
22. A
23. C
24. D
25. C
26. A
27. B
28. C
29. A
30. D
31. C
32. B
33. A
34. B
35. D
36. B
37. D
38. C
39. D
40. C
41. A
42. D
43. C
44. B
45. B
46. D
47. B
48. A
49. D
50. C